

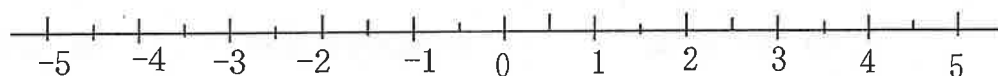
1. 次の数を+, -をつけて表せ。

- (1) 0より5大きい数      (2) 0より3.4小さい数      (3) 0より $2\frac{2}{5}$ 大きい数

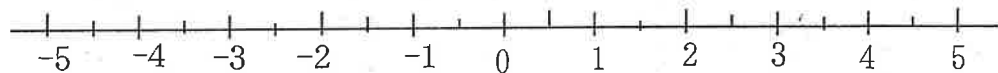
- (4) 0より $1\frac{3}{4}$ 大きい数

2. 次の数を+, -をつけて表せ。数直線を使って考えなさい。

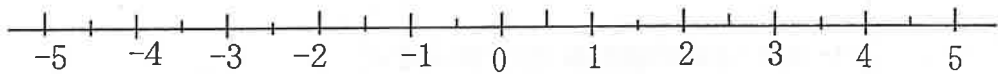
- (1) 3より6小さい数



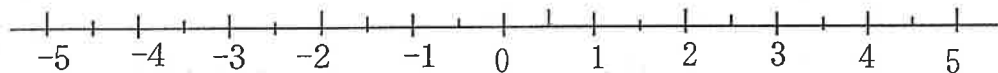
- (2) -2より5大きい数



- (3) 1より3.6小さい数

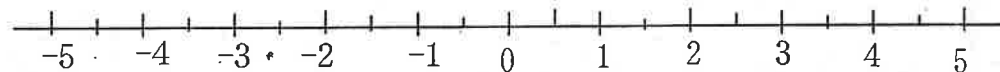


- (4) -3より $4\frac{1}{5}$ 大きい数

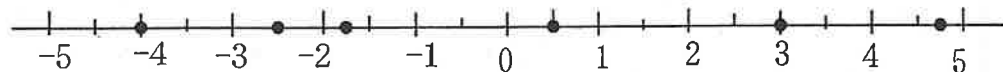


3. 次の数に対応する点を下の数直線上に表せ。

- A...+4,    B...-3,    C...+2.5,    D...-1.5,    E...+ $3\frac{1}{4}$     F...- $3\frac{3}{4}$



4. 次の数直線でABCDEFの表す数を言え。



答 A    B    C    D    E    F

■ p.4 ■

- 1 (1) +3℃      (2) -12.5℃  
 2 (1) 12, -2, 0, 4, -20, 5  
 (2) 12, 4, 5      (3) -2, -20  
 3 (1) -7 km      (2) +750 円  
 (3) -6 時間  
 4 (1) -2℃      (2) +1.7℃

曜日	月	火	水	木	金
販売個数	151	132	154	147	137
目標との違い	+6	-13	+9	+2	-8

- 5  
 6 (1) -8 大きい      (2) -7 小さい  
 (3) -3 個多い      (4) 東へ -5 m  
 (5) -8℃ の上昇      (6) -120 円の収入  
 7 (1) 500 円の収入      (2) 12 g 軽い  
 (3) 30 秒前      [+を用いて表してもよい]